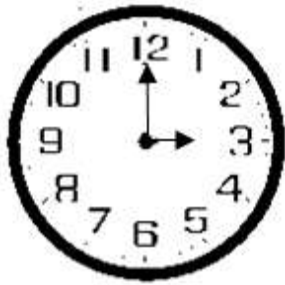


1. Odczytaj i zapisz godziny.



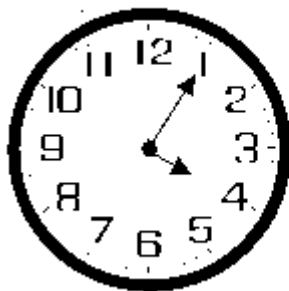
.....



.....



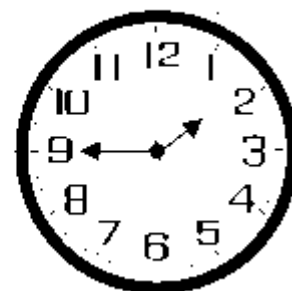
.....



.....



.....



.....

2. Uzupełnij zapisy godzin.

14.00 to po południu

8.00 wieczorem to

24.00 to

3 po południu to

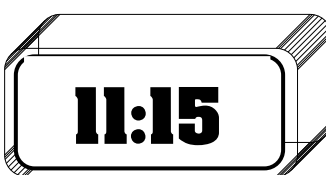
18.00 to

9.00 wieczorem to

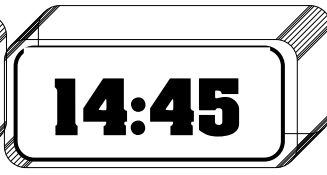
17.00 to

1 po południu to

3. Napisz pod każdym zegarem godzinę, która będzie po upływie kwadransa.



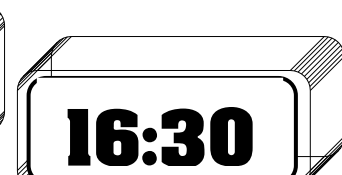
.....



.....



.....



.....

4. Napisz, jaka jest różnica między godzinami podanymi na dwóch zegarach.

10:20

14:20




13:25

13:55




.....

.....

5. Dzieci wzięły udział w turnieju piłki nożnej. Turniej rozpoczął się o godzinie 11.25, a zakończył się dwie godziny później. O której godzinie zakończył się turniej? Zaznacz zegar, który wskazuje właściwą godzinę.



6. Zabawa karnawałowa zakończyła się o godzinie 17.30. Rozpoczęła się godzinę i trzydzieści minut wcześniej. Zaznacz zegar, który pokazuje godzinę rozpoczęcia zabawy.



7. Maciek rozpoczął odrabiać lekcje o 14.25, a zakończył o 15.10. Ile czasu odrabiał lekcje?

A. 40 minut

B. 55 minut

C. 45 minut

D. 35 minut